

# 令和5年度県北オープン

## 社 会

### 受験上の注意

- 1 監督者の「始め」の合図があるまでは、開いてはいけません。
- 2 検査時間は、50 分間です。
- 3 大きな問題は全部で6問で、表紙を除いて19 ページです。  
また、別に解答用紙が1枚あります（両面刷り）。監督者の指示に従い、解答用紙のきめられた欄に氏名、フリガナ、中学校名、受験番号を書き、受験番号の下のマーク欄にマークしなさい。
- 4 監督者の「始め」の合図があったら、試験を始めなさい。
- 5 答えは原則として、最も適当なものを一つ選んで、解答用紙のきめられた解答欄にマークしなさい。また、二つ以上選ぶ問題は、指示に従い適当なものをマークしなさい。

例えば、例1のように**ア**と解答する場合は、解答欄の**ア**を塗ってマークしなさい。例2のように**ア**と**ウ**の二つ解答する場合は、解答欄の**ア**と**ウ**を塗ってマークしなさい。

(例1) 一つの場合

1	解答欄
1 (1)	<input checked="" type="radio"/> <input type="radio"/> <input type="radio"/> <input type="radio"/>

(例2) 二つの場合

4	解答欄
1 (1)	<input checked="" type="radio"/> <input type="radio"/> <input checked="" type="radio"/> <input type="radio"/>

- 6 監督者の「やめ」の合図があったら、すぐやめて、筆記用具をおきなさい。

1 次のA, B, C, D, E, Fのカードは、矢板市に住むともやさんが世界の中の日本についてまとめたものである。これを見て、次の1から8までの問いに答えなさい。

A <日本の国土>

- ・ ㉑日本には、領土の10倍以上の面積にもなる広い排他的経済水域がある。
- ・ 日本は、東経135度の経線を基準に時刻を定めている。

B <日本の自然>

- ・ 山がちな日本には、㉒平野や盆地など
- ・ ㉓さまざまな地形がみられる。
- ・ ㉔日本の気候は、地域によって特徴に大きな違いが見られる。

C <日本の人口>

- ・ 戦後、㉕日本の人口構成に大きな変化が見られた。
- ・ 三大都市圏に人口が集中する一方、過疎化の進む地域が増えている。

D <日本の資源とエネルギー>

- ・ ㉖日本は、多くの資源を海外からの輸入に頼っている。
- ・ 近年、化石燃料に代わる新しいエネルギーの開発が進められている。

E <日本の産業>

- ・ 地域により、稲や果実、野菜や畜産物の生産に大きな違いが見られる。
- ・ 工業、㉗農業、商業などの産業は、第一次産業～第三次産業に分類される。

F <海外との結びつき>

- ・ ㉘近年、海外から多くの観光客が日本を訪れるようになり、インバウンド需要が期待されている。
- ・ 日本は、加工貿易で発展してきた。

1 下線部㉑に関して、次の文は、図1中の排他的経済水域についてまとめたものである。□ I □, □ II □ に当てはまる語の組み合わせとして正しいのはどれか。

排他的経済水域は、国連海洋法条約により、領海の外側で、海岸線から □ I □ 海里(約370km)以内と定められている。この水域では、船舶や航空機の通行は □ II □ 。

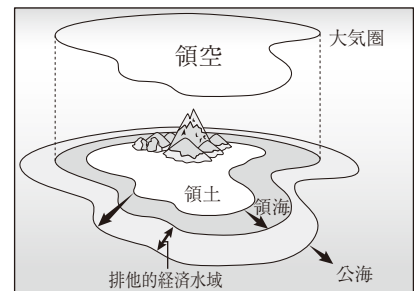


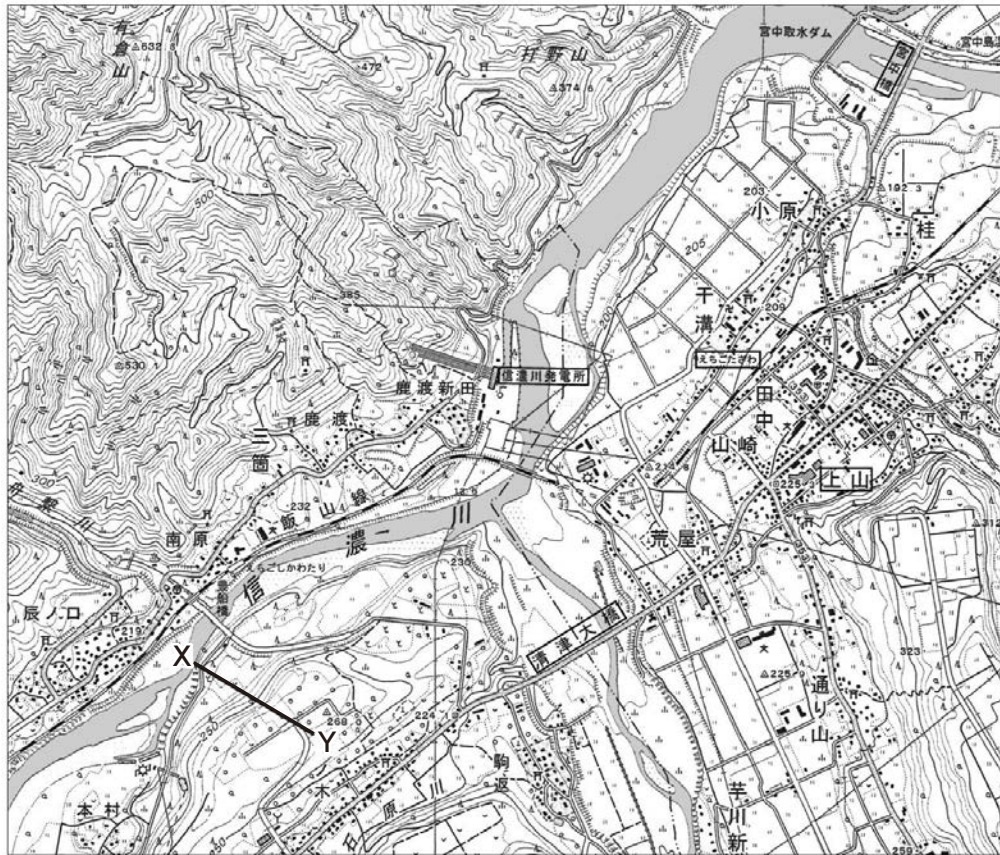
図1

- ア I - 12      II - 沿岸国の承認が必要である      イ I - 12      II - 自由である  
 ウ I - 200      II - 沿岸国の承認が必要である      エ I - 200      II - 自由である

2 下線部㉒に関して、平野とそこを流れる河川の組み合わせとして誤っているものはどれか。

- ア 仙台平野 - 北上川      イ 大阪平野 - 淀川  
 ウ 庄内平野 - 雄物川      エ 濃尾平野 - 木曾川

3 下線部㉔に関して、図2は、国土地理院 25000 分の 1 地形図「大割野（平成 19 年・一部改変）」である。

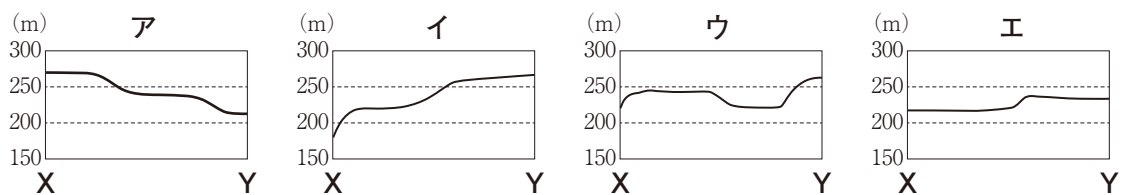


（2万5千分の1地形図「大割野」（平成19年）を縮小・一部改変）

図2

- ① 図2から読み取れることについて正しく述べているのはどれか。
- ア 「えちごたざわ」駅から駅前通りを直進したところにある「上山」地区には交番がある。
  - イ 「えちごたざわ」駅から「宮中橋」にかけての土地はなだらかで広く、果樹園に利用されている。
  - ウ 「えちごたざわ」駅から「信濃川発電所」までは地形図上で約4cmである。したがって、実際の直線距離は約4kmになる。
  - エ 「えちごたざわ」駅から見ると、「清津大橋」は、ほぼ南東の方位に位置している。

② 図2のX——Y間の断面を示す模式図として正しいのはどれか。



4 下線部㉔に関して、図3のA、B、C、Dは、図4中の都市W、X、Y、Zのいずれかの雨温図である。雨温図と都市の組み合わせとして正しいのはどれか。

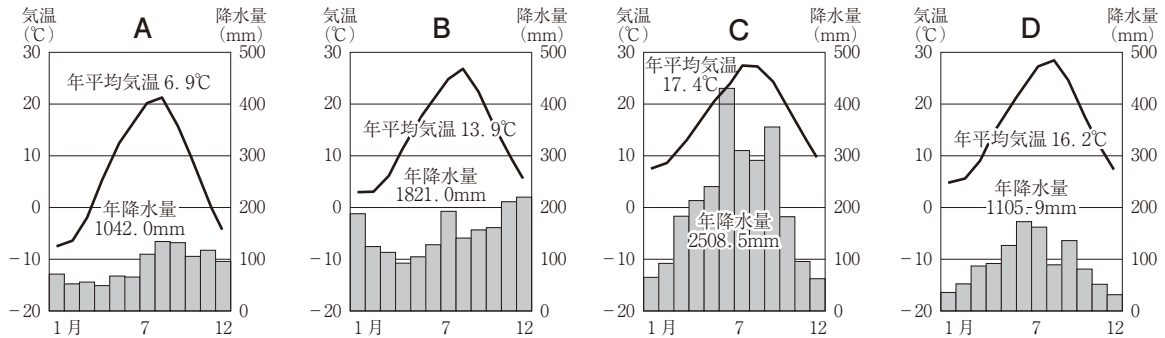


図3 (「理科年表」により作成)

- ア A-W B-X C-Y D-Z
- イ A-W B-X C-Z D-Y
- ウ A-X B-W C-Y D-Z
- エ A-X B-W C-Z D-Y

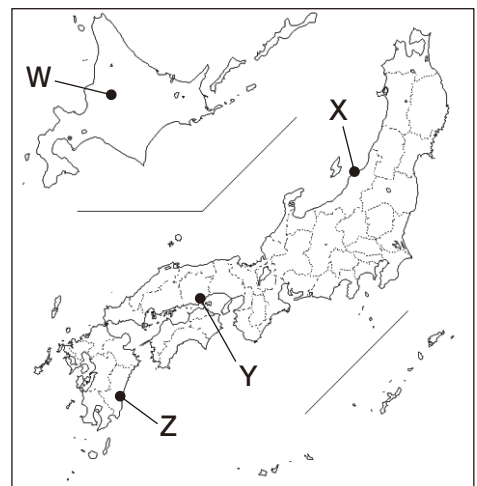


図4

5 下線部㉔に関して、図5は、日本の1930年、1980年、2025年(推計)の男女別・年齢階層別の人口構成を表したグラフである。日本の人口構成を説明した文として当てはまらないのはどれか。

- ア 2025年(推計)では、1980年に比べて出生率が低下し、生産年齢人口割合の減少が予想される。
- イ 1930～1980年の約50年間で、老年人口の割合は約2倍に増加している。
- ウ 1930年は出生率・死亡率が高く、グラフはつぼ型である。
- エ 1980年は、1930年に比べて出生率・死亡率が低下し、グラフはつりがね型である。

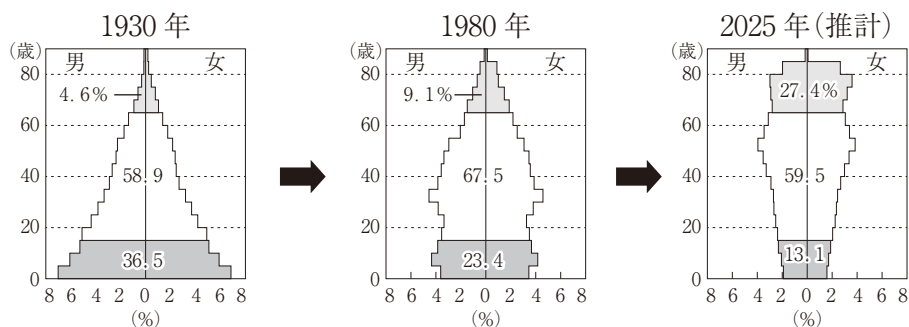


図5 (「総務省資料」ほかにより作成)

6 下線部⑥に関して、図6は日本が地下資源を多く輸入しているオーストラリアの金、石炭、鉄鉱石、ボーキサイトのおもな産出地を示したものである。P、Q、R、Sに当てはまる地下資源の組み合わせとして正しいのはどれか。

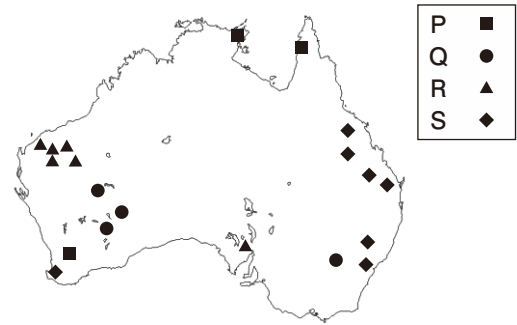


図6

- ア 金-S 石炭-Q 鉄鉱石-P ボーキサイト-R
- イ 金-Q 石炭-S 鉄鉱石-P ボーキサイト-R
- ウ 金-Q 石炭-S 鉄鉱石-R ボーキサイト-P
- エ 金-S 石炭-Q 鉄鉱石-R ボーキサイト-P

7 下線部⑧に関して、次の文は、促成栽培<sup>そくせいさいばい</sup>について述べたものである。I、IIに当てはまる語の組み合わせとして正しいのはどれか。

促成栽培とは I の温暖な気候を生かし、ビニールハウスなどの施設<sup>しせつ</sup>を利用して、出荷時期を II 栽培方法である。宮崎平野や高知平野では、この方法でピーマンやきゅうり、なすなどを栽培し、首都圏や京阪神地方などへ出荷している。

- ア I-夏 II-遅らせる      イ I-夏 II-早める
- ウ I-冬 II-遅らせる      エ I-冬 II-早める

8 下線部⑨に関して、福岡県は外国人観光客に人気の地域の一つである。図7、図8から読み取れることを述べた文として正しいのはどれか。

福岡空港と成田国際空港の国・地域別入国者数割合 (2017年)

福岡空港		タイ1.7%				
入国者220.6万人						
韓国	台湾	中国	香港	その他		
62.5%	13.2%	7.8%	7.0%	7.8%		

成田国際空港					
入国者763.9万人					
中国	台湾	韓国	アメリカ	香港	その他
19.7%	14.0%	13.1%	10.0%	6.6%	36.6%

図7 (「総務省資料」により作成)



図8

- ア 福岡空港の入国者数は、成田国際空港の入国者数の4分の1以下である。
- イ 福岡空港と結ばれる海外の空港のうち、福岡空港から成田国際空港までの距離より近い空港は4港ある。
- ウ 成田国際空港の国・地域別入国者数上位5か国のうち、アメリカ以外はアジア州の国や地域であり、その入国者数は350万人未満である。
- エ 福岡空港の国・地域別入国者数上位5か国はいずれもアジア州の国や地域であり、特に東アジアの国や地域からの入国者数は190万人以上である。

2 ようこ 洋子さんは、お父さんが仕事で滞在するアルゼンチンに興味を持ち、日本とアルゼンチンとの関わりについて調べた。図1、図2、図3、図4、図5は洋子さんが作成した資料である。これを見て、次の1から7までの問いに答えなさい。

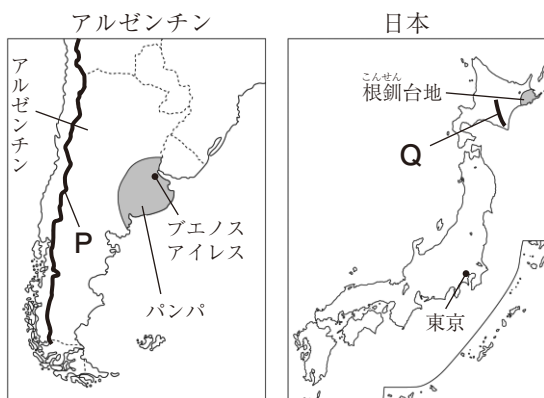


図1

アルゼンチンと日本の比較

アルゼンチン		日本
280	面積 (万km <sup>2</sup> )	38
45,277	人口 (千人)	125,502
西経 45 度	標準時子午線の経度	東経 135 度
( X )	首都が属する気候区	( X )
779	輸出額 (億ドル)	7,560
632	輸入額 (億ドル)	7,690

面積は2020年、人口、輸出入額は2021年の統計(2022/23「世界国勢図会」により作成)

図2

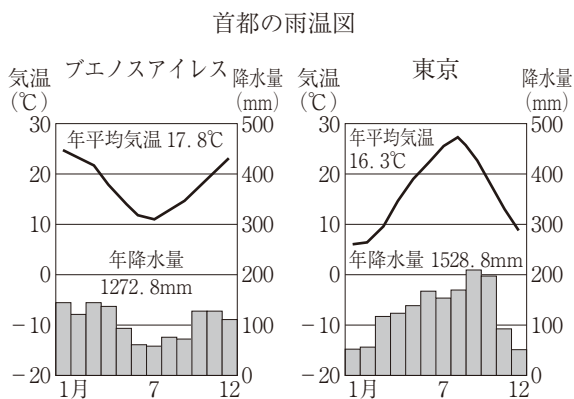
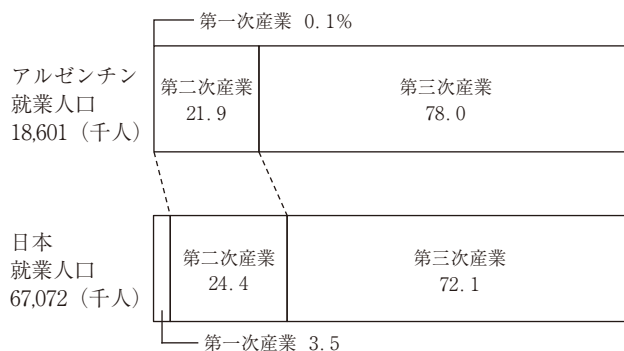


図3 (「理科年表」により作成)

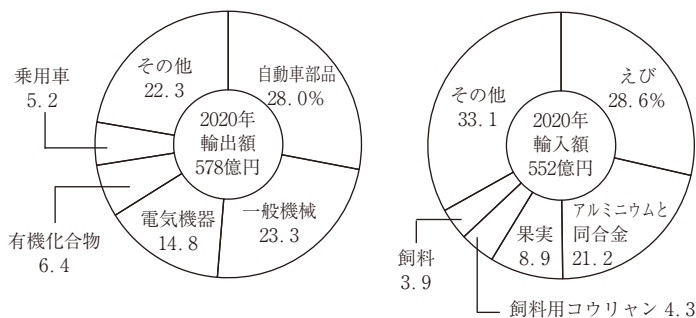
アルゼンチンと日本の産業別就業人口の内訳 (2018年)



(2022年版「データブック オブ・ザ・ワールド」ほかにより作成)

図4

日本の対アルゼンチン貿易



(2022年版「データブック オブ・ザ・ワールド」ほかにより作成)

図5

1 図1のPとQの山脈(山地)の組み合わせとして正しいのはどれか。

- ア P-アパラチア山脈 Q-日高山脈<sup>ひだか</sup>    イ P-アパラチア山脈 Q-夕張山地<sup>ゆうばり</sup>  
ウ P-アンデス山脈    Q-日高山脈    エ P-アンデス山脈    Q-夕張山地

2 図2中の数値をもとに、アルゼンチンと日本の人口密度の組み合わせとして正しいのはどれか。

- ア アルゼンチン-16人/km<sup>2</sup>    日本-330人/km<sup>2</sup>    イ アルゼンチン-162人/km<sup>2</sup>    日本-330人/km<sup>2</sup>  
ウ アルゼンチン-16人/km<sup>2</sup>    日本-3303人/km<sup>2</sup>    エ アルゼンチン-162人/km<sup>2</sup>    日本-3303人/km<sup>2</sup>

3 次の会話文は、洋子さんと仕事でアルゼンチンの首都ブエノスアイレスに滞在しているお父さんとの電話での会話の一部である。文中の  にあてはまる日時として正しいのはどれか。なお、サマータイム制は考えないものとする。

お父さん：洋子，元気でやっているかい？

洋子さん：私は元気よ。今日は勤労感謝の日で学校が休みだったので，お母さんと一緒に買い物に行って，お父さんに似合いそうなセーターを買ったのよ。今度はいつ帰って来られるの？

お父さん：次のお正月かな。お父さんも洋子を買ってくれたセーターを早く着たいな。

洋子さん：早くお正月が来ないかな。今，ちょうど7時だからもうすぐお母さんと夕食なの。

お父さん：お父さんも日本の食事がなつかしいよ。

洋子さん：ブエノスアイレスはいま何時？

お父さん：ちょうど  だよ。

- ア 11月22日午前7時    イ 11月23日午前7時  
ウ 11月23日午後7時    エ 11月24日午後7時

4 東京とブエノスアイレスが属する気候区は同じである。図2中の( X )にあてはまる気候区はどれか。図3を参考にして答えなさい。

- ア 地中海性気候    イ 温暖(温帯)湿潤気候  
ウ 西岸海洋性気候    エ 熱帯雨林気候

- 5 次の文は、図1中のパンパと根釧台地の農業について述べたものである。□I□，□II□に当てはまる語の組み合わせとして正しいのはどれか。

パンパは□I□川の下流に広がる草原地帯で、<sup>どじょう</sup>土壌が肥よくであるため、小麦やとうもろこしの栽培<sup>さいばい</sup>のほか、肉牛などの放牧もさかんである。

根釧台地は火山噴出物<sup>ふんしゅつぶつ</sup>が積もってできた台地であるが、1950年代に国の事業で開発が行われたことから、乳牛を飼育して、牛乳やそれを加工した乳製品をつくる□II□がさかんになった。

- ア I - アマゾン    II - 混合農業    イ I - ラプラタ    II - 混合農業  
 ウ I - アマゾン    II - 酪農<sup>らくのう</sup>    エ I - ラプラタ    II - 酪農

- 6 次のA, B, Cは、アルゼンチンと日本の産業別就業人口について、図4から読み取れることを述べたものである。A, B, Cの正誤の組み合わせとして正しいのはどれか。

- A 日本よりアルゼンチンの方が、産業構造の高度化が進んでいる。  
 B 鉱業や製造業(工業)、建設業<sup>たぎさ</sup>に携わる人口の割合は、日本よりアルゼンチンの方が高いが、実際の就業人口は日本の方が多い。  
 C アルゼンチンの第三次産業の就業人口より、日本の第二次産業の就業人口の方が多い。

- ア A - 正 B - 正 C - 誤    イ A - 正 B - 誤 C - 正  
 ウ A - 誤 B - 正 C - 正    エ A - 正 B - 誤 C - 誤  
 オ A - 誤 B - 正 C - 誤    カ A - 誤 B - 誤 C - 正  
 キ A - 正 B - 正 C - 正    ク A - 誤 B - 誤 C - 誤

- 7 アルゼンチンと日本の貿易に関して、図2, 図5から読み取れることを述べた文として正しいのはどれか。なお、統計年次の違いは考えないものとする。

- ア アルゼンチンも日本も、2020年の貿易では貿易黒字となっている。  
 イ 2020年の国民一人当たりの輸出額においても輸入額においても、日本はアルゼンチンを上回っている。  
 ウ 日本のアルゼンチンへの輸出品上位5品目は、いずれも機械工業で生産された品目である。  
 エ 日本のアルゼンチンからの輸入品上位5品目は、いずれも第一次産業で生産された品目である。







3 じゅんいちさんは、旅行で訪れた岩手県に関心を持ち、北海道・東北地方の地域的特色について調べた。図1はじゅんいちさんが作成した略地図である。これを読み、1から8までの問いに答えなさい。

1 図1中にふくまれる世界遺産として当てはまらないのはどれか。

- |                            |                              |
|----------------------------|------------------------------|
| ア <small>しれとこ</small> 知床   | イ <small>おがさわら</small> 小笠原諸島 |
| ウ <small>しらかみ</small> 白神山地 | エ <small>ひらいずみ</small> 平泉    |

2 図1中の盛岡市で生産されている伝統的工芸品として正しいのはどれか。

- |  |  |
|--|--|
| ア   | イ   |
| ウ  | エ  |

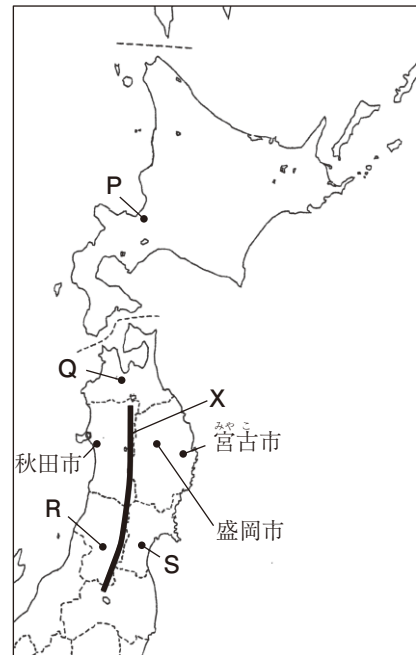


図1

3 図1中のXの地形として正しいのはどれか。

- |                           |                          |                           |                            |
|---------------------------|--------------------------|---------------------------|----------------------------|
| ア <small>えちこ</small> 越後山脈 | イ <small>でわ</small> 出羽山地 | ウ <small>おうう</small> 奥羽山脈 | エ <small>きたかみ</small> 北上高地 |
|---------------------------|--------------------------|---------------------------|----------------------------|

4 図2は、北海道の先住民族であるアイヌの伝統舞踊の様子である。海外の先住民族とその地域の組み合わせとして正しいのはどれか。



図2

- |             |               |                |
|-------------|---------------|----------------|
| ア カナダーマオリ   | オーストラリアーイヌイット | ニュージーランドーアボリジニ |
| イ カナダーマオリ   | オーストラリアーアボリジニ | ニュージーランドーイヌイット |
| ウ カナダーイヌイット | オーストラリアーマオリ   | ニュージーランドーアボリジニ |
| エ カナダーイヌイット | オーストラリアーアボリジニ | ニュージーランドーマオリ   |
| オ カナダーアボリジニ | オーストラリアーイヌイット | ニュージーランドーマオリ   |
| カ カナダーアボリジニ | オーストラリアーマオリ   | ニュージーランドーイヌイット |

5 図3の①～④は、図1のP、Q、R、Sのいずれかの都市で行われる伝統行事(祭り)の様子を示している。これらの伝統行事(祭り)が行われる都市の組み合わせとして正しいのはどれか。



- ア ①-S ②-R ③-P ④-Q    イ ①-S ②-R ③-Q ④-P  
 ウ ①-R ②-S ③-P ④-Q    エ ①-R ②-S ③-Q ④-P

6 次の文は、図1中の秋田市または宮古市のいずれかについて述べたものである。Ⅰ、Ⅱ、Ⅲに当てはまる語の組み合わせとして正しいのはどれか。

この市は図1中のⅠ市である。初夏のころから夏にかけて吹くⅡと沖合を流れるⅢの影響で、冷害に見舞われることがある。

- ア I-秋田 II-やませ III-対馬海流    イ I-秋田 II-からっ風 III-千島海流  
 ウ I-秋田 II-やませ III-千島海流    エ I-秋田 II-からっ風 III-対馬海流  
 オ I-宮古 II-やませ III-対馬海流    カ I-宮古 II-からっ風 III-千島海流  
 キ I-宮古 II-やませ III-千島海流    ク I-宮古 II-からっ風 III-対馬海流

7 図4は、北海道と全国の耕地面積と農業産出額に関する統計をまとめたものである。図4から読み取れることを正しく述べているものをすべて選びなさい。

	耕地面積 (ha) 2021年	農業産出額 (億円) 2020年	農業産出額の内訳(億円)				
			米	野菜	果実	ちくさん 畜産	その他
北海道	1,143,000	12,667	1,198	2,145	69	7,337	1,918
全国	4,349,000	89,370	16,431	22,520	8,741	32,372	9,306

図4 (「データでみる県勢2023」により作成)

- ア 北海道の野菜の産出額の全国に占める割合は、北海道の米の産出額の全国に占める割合よりも高い。  
 イ 北海道の耕地面積は、全国の耕地面積の30%以上を占めている。  
 ウ 耕地面積1haあたりの農業産出額を比べると、北海道は全国よりも多い。  
 エ 北海道は畜産の産出額が最も多く、その割合は北海道の農業産出額の50%以上を占めている。

- 8 じゅんいちさんは、宮城県では近年、パプリカの生産がさかんであることに関心を持ち、生産農家の工夫について調べたことをまとめた。  に当てはまる内容として適切なのはどれか。

パプリカ栽培農家の取り組み

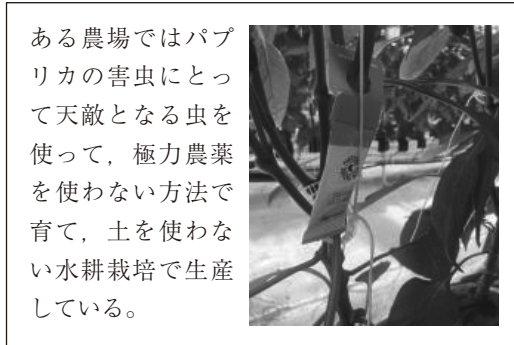
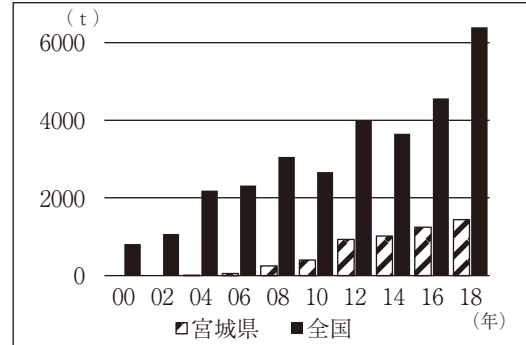


図 5

宮城県のパプリカ生産量の推移



(「令和2年度農林水産省資料」ほかにより作成)

図 6

じゅんいちさんの考察

宮城県のパプリカ生産農家では、図5のような工夫を行っている。この工夫は消費者に「  」を提供するためである。図5をはじめ、様々な栽培の工夫を行うことで宮城県のパプリカ生産量は年々増えてきている。

- ア 価格の安い野菜      イ 鮮度の高い野菜  
ウ 国産の野菜          エ 安全に食べられる野菜

4 図1は、古代から明治初期までの日本の国際関係に関わるおもなできごとをまとめたものである。これを見て、1から8までの問いに答えなさい。

1 図1中の下線部①に関して、鑑真が日本で行ったこととして正しいのはどれか。  
 ア 橋や用水路をつくりながら、人々に仏教を広めた。  
 イ 都に唐招提寺を開き、寺院や僧の制度を整えた。  
 ウ 国ごとに国分寺や国分尼寺を建て、仏教の力で国家を守ろうとした。  
 エ 高野山に金剛峯寺を建て、真言宗を広めた。

2 図1中の下線部②に関して、この貿易が始まった頃の日本国内の様子として正しいのはどれか。  
 ア 商工業者が株仲間という同業者組合をつくり、営業を独占するようになった。  
 イ 南北朝が統一され、北朝と南朝に分かれての内乱が収まった。  
 ウ 院政の実権をめぐる対立から内乱が起こり、武士が政治の実権をにぎるようになった。  
 エ 物資を運ぶ馬借や問と呼ばれる運送業をかねた倉庫業者が活躍した。

3 次の文は、図1中の下線部③に関して述べたものである。 [ I ] , [ II ] , [ III ] に当てはまる語の組み合わせとして正しいのはどれか。

元の皇帝 [ I ] ・ハンは、日本に使者を送り服属を求めたが、当時の幕府の執権北条時宗がこれを無視したため、すでに服属した [ II ] の軍をあわせた大軍を九州北部に差し向けた。元軍は博多湾に上陸し、 [ III ] などの戦術で日本軍を苦しめたが、内部対立もあり、間もなく引き上げていった。

- ア I - フビライ II - 新羅 III - 一騎討ち      イ I - チンギス II - 新羅 III - 集団戦法  
 ウ I - フビライ II - 高麗 III - 一騎討ち      エ I - チンギス II - 高麗 III - 集団戦法  
 オ I - フビライ II - 新羅 III - 集団戦法      カ I - チンギス II - 新羅 III - 一騎討ち  
 キ I - フビライ II - 高麗 III - 集団戦法      ク I - チンギス II - 高麗 III - 一騎討ち

年代	できごと
57	① 奴国が漢（後漢）に使いを送る。
607	聖徳太子（厩戸王）が隋に使いを送る。
*753	唐の高僧①鑑真が来日する。 （* 754年とする説もある）
894	遣唐使が停止される。
1173頃	平清盛が②日宋貿易を始める。
1274	③元軍が九州北部に襲来する。
1404	足利義満が④勘合貿易を始める。
1543	⑤種子島に鉄砲が伝来する。
1604	⑥朱印船貿易が始まる。
1641	鎖国体制が固まる。
1825	異国船（外国船）打払令が出される。……
1842	薪水給与令が出される。……
1871	岩倉使節団が派遣される。……

図1

4 図1中の下線部④に関して、この貿易で中国から輸入された銅銭として正しいのはどれか。



5 図1中の下線部⑤に関して、日本に鉄砲が伝来した時期、ヨーロッパ人が積極的に海外進出を行い、大航海時代が始まった。図2は、この時期に新たに開拓された航路かいたくを示している。それぞれの航路を開拓した人物の組み合わせとして正しいのはどれか。

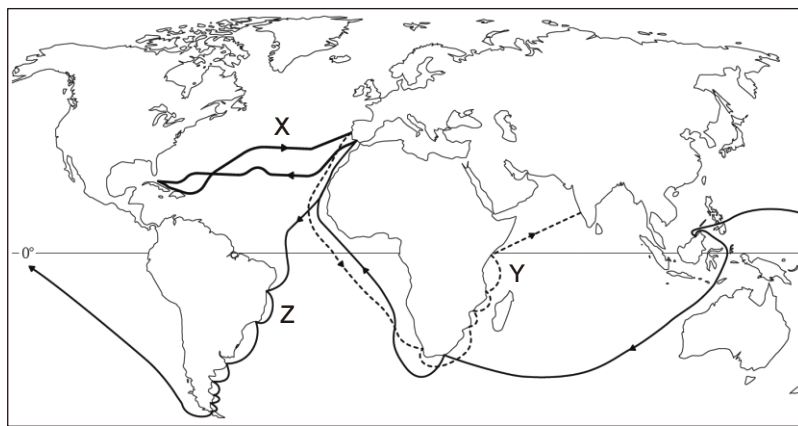
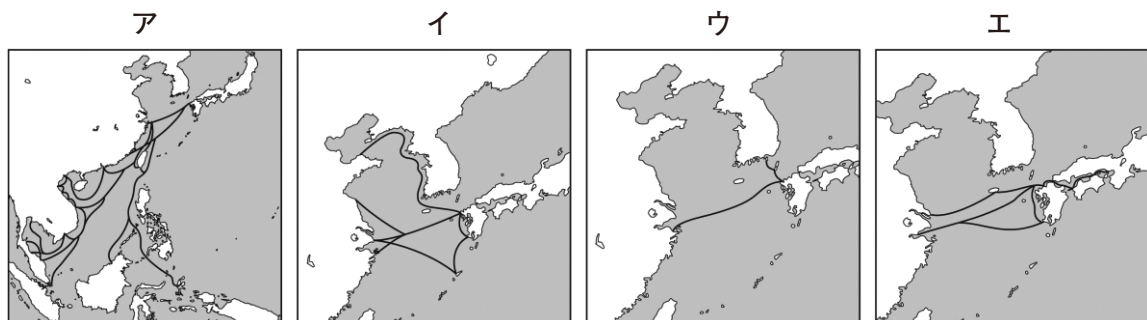


図2

- |   |              |              |              |
|---|--------------|--------------|--------------|
| ア | X : バスコ・ダ・ガマ | Y : マゼラン一行   | Z : コロンブス    |
| イ | X : バスコ・ダ・ガマ | Y : コロンブス    | Z : マゼラン一行   |
| ウ | X : マゼラン一行   | Y : バスコ・ダ・ガマ | Z : コロンブス    |
| エ | X : マゼラン一行   | Y : コロンブス    | Z : バスコ・ダ・ガマ |
| オ | X : コロンブス    | Y : バスコ・ダ・ガマ | Z : マゼラン一行   |
| カ | X : コロンブス    | Y : マゼラン一行   | Z : バスコ・ダ・ガマ |

6 図1中の下線部⑥に関して、朱印船貿易のおもな航路として正しいのはどれか。



7 図1中の下線部⑦に関して、⑦の時期に海外で起こったできごととして正しいのはどれか。

ア 清教徒革命      イ フランス革命      ウ アヘン戦争      エ 南北戦争

8 図1中の下線部⑧に関して、⑧の時期に起こった次のA、B、C、D、Eのできごとを年代の古い順に並び替えた場合、2番目と5番目に当てはまる記号の組み合わせとして正しいのはどれか。

A <sup>さかもとりょうま</sup>坂本龍馬の仲立ちで、<sup>さつちよう</sup>薩長同盟が結ばれた。

B 桜田門外の変が起こった。

C <sup>とくがわよしのぶ</sup>徳川慶喜が大政奉還の上表を<sup>ちやうてい</sup>朝廷に提出した。

D 日米修好通商条約が結ばれた。

E <sup>ぼしん</sup>戊辰戦争が<sup>はこだて</sup>函館で終結した。

ア 2番目－A    5番目－C      イ 2番目－A    5番目－D

ウ 2番目－B    5番目－D      エ 2番目－B    5番目－E

オ 2番目－C    5番目－A      カ 2番目－C    5番目－B

キ 2番目－D    5番目－B      ク 2番目－D    5番目－C

ケ 2番目－E    5番目－C      コ 2番目－E    5番目－D

5 はるなさんは、明治日本の産業革命遺産となっている、静岡県伊豆の国市にあるいず 韮山反射炉にらやまはんしゃろに訪れた。これをきっかけに「わが国の近現代の産業の発展と経済」について調べ、収集した情報から図1を作成した。これを見て、1から7までの問いに答えなさい。

産業に関するおもなできごと	わが国の経済成長の様子
1872年 <small>とみおか</small> 富岡製糸場の創業	明治新政府は、 <small>しよくさんこうぎやう</small> 殖産興業政策を進めて経済の資本主義化を図る一環として、官営模範工場 <small>もはん</small> を各地に建設し、外国の優れた新しい技術を各地に広めた。①1872年には群馬県に富岡製糸場が創業し、 <small>きいと</small> 生糸の増産と品質向上が図られた。
1901年 <small>やはた</small> 八幡製鉄所の操業開始	日清戦争後に官営の②八幡製鉄所が操業を開始し、日本の重化学工業の発展のいしずえとなった。産業革命が進む中、三井、 <small>みつびし</small> 三菱、住友などの大企業が成長した一方、労働者の長時間労働や低賃金、公害などの社会問題も発生した。
1938年 国家総動員法の制定	③世界恐慌 <small>きやうこう</small> をきっかけに不景気が世界中に広がる中、軍部が次第に力を強めていった。大陸への権益拡大のため、満州事変、日中戦争へと戦火が広がる中、国家総動員法が制定され、④戦時体制が強化されていった。
1955年 高度経済成長期が始まる	池田勇人内閣が「所得倍増」をスローガンに掲げ、1955年から73年にかけて、年平均10%程度の経済成長を続ける⑤高度経済成長期となった。この時期には技術革新が進み、⑥国民の暮らしは便利で快適なものになった。
1991年 平成不況と失われた20年	1980年代後半、投機によって株式と土地の価格が異常に高騰 <small>こうとう</small> し、不健全な好況が発生した。⑦この好況は1991年に崩壊し、長期にわたる平成不況が続いた。

図1

1 下線部①に関して、①の前後のできごとであるA、B、C、Dのできごとを年代の古い順に並べ替えたものとして正しいのはどれか。

- A 政府が国会開設を約束すると、いたがきたいすけ 板垣退助らが自由党を結成した。
- B 鹿児島さいこうたかもりの士族が西郷隆盛を中心として西南戦争を起こしたが、政府軍に鎮圧ちんあつされた。
- C 地価の3%を現金で納めさせることを定めた、地租改正条例が公布された。
- D 全国の藩はんを廃止して県を置き、中央から府知事・県令を派遣して治めさせた。

- ア A→B→C→D    イ A→D→C→B    ウ B→D→C→A    エ B→C→A→D  
 オ C→A→B→D    カ C→B→A→D    キ D→A→B→C    ク D→C→B→A

2 下線部②に関して、図2は1900年代初めの九州北部の地図であり、■はおもな炭田、-----は鉄道路線を示している。また、図3は図2中の八幡製鉄所における、1901年の鉄鉱石の産地別入荷量の割合を示している。図2、図3から考察できることを述べた文として当てはまらないのはどれか。

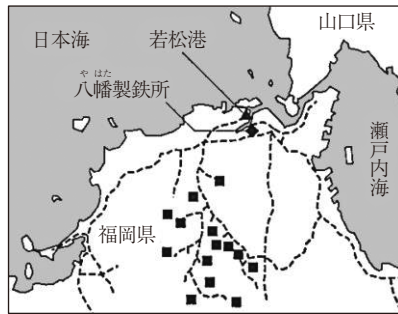


図2

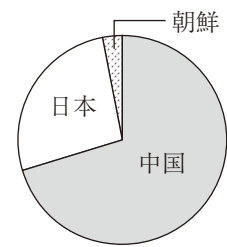


図3

(「八幡製鉄所50年誌」により作成)

- ア 当時、国内で産出されていた石炭を輸送するために、炭田をつなぐ鉄道が整備された。
- イ 当時、大陸から鉄鉱石を輸入していたため、輸入に便利な日本海側に建てられた。
- ウ 当時、鉄鉱石の国内自給率はおよそ25%程度であった。
- エ 当時、鉄鋼の原料の一つである石灰石は、関門トンネルを通じて山口県から輸送されていた。
- 3 下線部③に関して、世界恐慌に対する世界の国々の動きについて述べた文として正しいのはどれか。
- ア フランスで、巨額の賠償金<sup>ばいしょうきん</sup>などの支払いをドイツに求めるベルサイユ条約が結ばれた。
- イ イギリスで、本国とその植民地<sup>しんりやく</sup>以外の商品への関税を高めるブロック経済が行われた。
- ウ 中国で、列強の侵略<sup>しんりやく</sup>に反発する排外運動<sup>はいがい</sup>がさかんになり、義和団事件が起こった。
- エ アメリカで、海軍における軍備の制限などについて話し合うワシントン会議が開かれた。
- 4 下線部④に関して、④の時期の国民の生活にかかわるできごとについて述べた文として当てはまらないのはどれか。
- ア 家族制度が改められ、家長の支配権が否定された。
- イ 住民を相互に監視<sup>かんし</sup>させる目的で、隣組がつくられた。
- ウ 米、砂糖、マッチ、衣料品などが配給制や切符制となった。
- エ 国民は、軍需品の工場などに動員され、働かされた。
- 5 下線部⑤に関して、⑤の時期に起こった世界のできごとについて述べた文として正しいのはどれか。
- ア ベルリンの壁が崩壊し、東西ドイツが統一された。
- イ 北朝鮮<sup>かんこく</sup>が韓国に侵攻し、朝鮮戦争が起こった。
- ウ キューバ危機が起こり、アメリカとソ連の軍事的緊張が高まった。
- エ アメリカ同時多発テロ事件が発生した。



6 下線部⑥に関して、図4は日本の国民総生産と経済成長率の変化、図5は家電製品の普及率の変化を示している。白黒テレビの普及率が80%に達してから、電気掃除機の普及率が80%に達した時期の間の経済成長率の平均値に最も近いのはどれか。

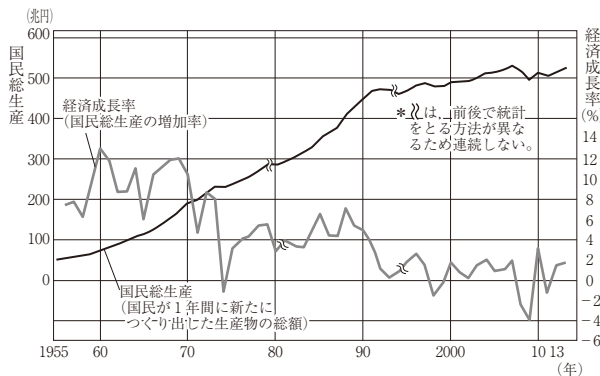


図4

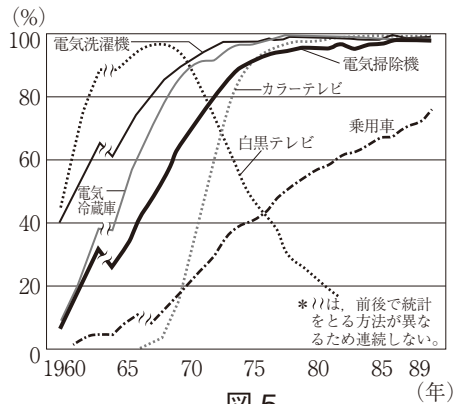


図5

(「内閣府資料」ほかにより作成)

- ア 3%      イ 5%      ウ 10%      エ 15%

7 下線部⑦に関して、次の文は、はるなさんが図6のXの時期についてまとめたものである。Ⅰ、Ⅱ、Ⅲに当てはまる語の組み合わせとして正しいのはどれか。

1991年にⅠ景気が崩壊すると株価や地価が大きく下落し、日本は長期にわたる平成不況に陥った。さらに2008年にはⅡ危機が深刻化した。この間、政府は景気対策を繰り返す一方、Ⅲなどの構造改革を進め、その後景気はゆるやかに回復したが、財政赤字や所得格差の拡大が現在も課題として残されている。

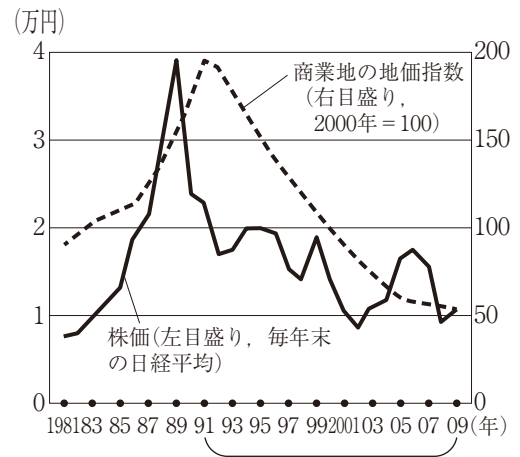


図6

(「日本銀行・日本不動産研究所資料」により作成)

- |   |         |          |                         |
|---|---------|----------|-------------------------|
| ア | Ⅰ - 特需  | Ⅱ - 石油   | Ⅲ - 経済に対する規制緩和や民営事業の国有化 |
| イ | Ⅰ - バブル | Ⅱ - 石油   | Ⅲ - 経済に対する規制緩和や民営事業の国有化 |
| ウ | Ⅰ - 特需  | Ⅱ - 世界金融 | Ⅲ - 経済に対する規制緩和や国営事業の民営化 |
| エ | Ⅰ - バブル | Ⅱ - 世界金融 | Ⅲ - 経済に対する規制緩和や国営事業の民営化 |
| オ | Ⅰ - 特需  | Ⅱ - 石油   | Ⅲ - 経済に対する規制強化や国営事業の民営化 |
| カ | Ⅰ - バブル | Ⅱ - 石油   | Ⅲ - 経済に対する規制強化や国営事業の民営化 |
| キ | Ⅰ - 特需  | Ⅱ - 世界金融 | Ⅲ - 経済に対する規制強化や民営事業の国有化 |
| ク | Ⅰ - バブル | Ⅱ - 世界金融 | Ⅲ - 経済に対する規制強化や民営事業の国有化 |

6 つとむさんは、「日本の土地制度の歴史」に着目して古代から近世までの歴史的分野の学習をふり返し、図1を作成した。これを見て、1から6までの問いに答えなさい。

時代区分	土地制度の様子
古代	<ul style="list-style-type: none"> <li>①大化の改新後、公地公民の制度が整えられ、②農民は口分田の面積に応じて税を納めるなど、さまざまな負担を強いられた。</li> <li>聖武天皇の頃、律令制度が行きづまり、口分田の不足を補うために、③墾田永年私財法が出された。</li> </ul>
中世	<ul style="list-style-type: none"> <li>④鎌倉幕府により全国の公領の管理のために送られた武士は、やがて土地や農民を支配していくようになり、農民は朝廷と幕府の二重支配に苦しんだ。</li> <li>領地の分割相続が繰り返されたことで次第に土地が減り、生活が苦しくなった御家人の中には土地を手放す者も出てきた。</li> </ul>
近世	<ul style="list-style-type: none"> <li>全国統一を果たした豊臣秀吉は、ものさしやますの基準を統一し、田畑の面積や土地のよしあし、耕作者を調べさせる太閤検地を行った。</li> <li>⑤江戸時代、幕府は安定して年貢を徴収できるよう、⑥村を通して農民に細かい指示を出したり、土地の売買を制限したりした。</li> </ul>

図1

1 下線部①に関して、大化の改新よりも前に起こったできごととして正しいのはどれか。

- ア 白村江の戦いで日本が敗北した。
- イ 第1回遣唐使が派遣された。
- ウ 大宝律令が制定された。
- エ 坂上田村麻呂が蝦夷を平定した。

種類	おもな内容
租	男女に課せられる。口分田で収穫した稲の3%を納める。
庸	I
調	II
雑徭	III
兵士	成年男子3人に1人。国ごとの軍団で1年間に平均36日間の訓練。
衛士	兵士から選ばれる。1年間都の警備をする。
防人	兵士から選ばれる。3年間北九州の警備をする。

2 下線部②に関して、図2のI、II、IIIには古代の農民の負担を示した次のA、B、Cのいずれかが当てはまる。I、II、IIIに当てはまる組み合わせとして正しいのはどれか。

図2

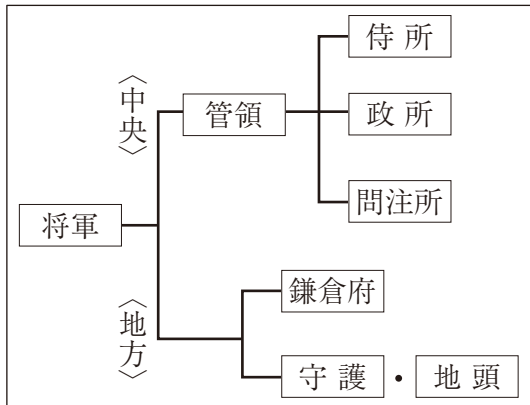
A	B	C
成年男子に課せられる。	成年男子に課せられる。	成年男子に課せられる。
年間60日以内の土木工事などの労働。	地方の特産物を納める。	労役の代わりに麻の布約8mを納める。

- ア A - II    B - III    C - I    イ A - III    B - I    C - II
- ウ A - II    B - I    C - III    エ A - I    B - III    C - II
- オ A - I    B - II    C - III    カ A - III    B - II    C - I

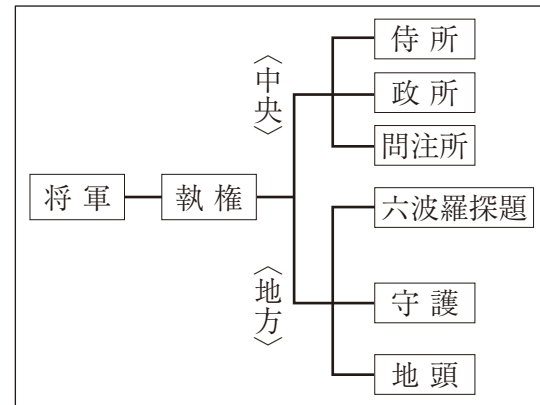
- 3 下線部③に関して、<sup>こんでんえいねん しぎいのほう</sup> 墾田永年私財法が出された後の様子として正しいのはどれか。
- ア 多くの農民は、土地の開墾を進めて米の生産を増やし、生活が安定するようになった。
  - イ 法にしばられることをきらった農民が土地を捨てて逃げ出し、開墾が進まなかった。
  - ウ 朝廷は、班田収授を立て直すことができ、開墾によって広大な口分田を確保した。
  - エ 貴族や寺社が競って土地の開墾を進め、さかんに私有地を広げていった。

- 4 下線部④に関して、鎌倉幕府のしくみを表した図として正しいのはどれか。

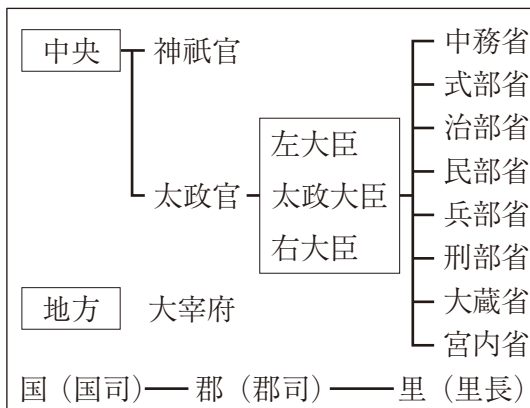
ア



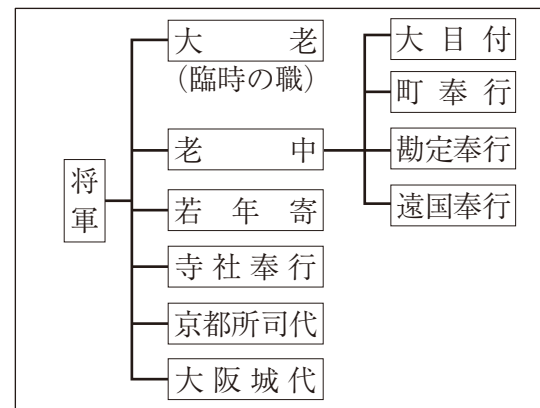
イ



ウ



エ



- 5 下線部⑤に関して、海外のできごととして正しいのはどれか。

- ア イギリスでマグナ=カルタが定められた。
- イ ルターがドイツで宗教改革を始めた。
- ウ ローマ教皇の呼びかけで第一回十字軍が派遣された。
- エ アメリカで独立戦争が起き、独立宣言が発表された。



# 令和5年度 県北オープン解答用紙 社会 第1面

受験番号			
①	①	①	①
②	②	②	②
③	③	③	③
④	④	④	④
⑤	⑤	⑤	⑤
⑥	⑥	⑥	⑥
⑦	⑦	⑦	⑦
⑧	⑧	⑧	⑧
⑨	⑨	⑨	⑨

フリガナ	
氏名	

中学校名	
	立
	中学校

### 注意事項

- HBまたはBの鉛筆(シャープペンシルも可)を使って○の中を正確に塗りつぶしなさい。
- 訂正は消しゴムできれいに消し、消しくずを残してはいけません。
- 所定欄以外にマークしたり、記入したりしてはいけません。
- 汚したり、折り曲げたりしてはいけません。

良い例	悪い例		
	① 線	② 小さい	③ はみ出し
	④ 丸囲み	⑤ レ点	⑥ うすい

6 問題番号 **4****5****6** の解答欄は、この用紙の第2面にあります。

解答教科	
<input type="radio"/>	国語
<input checked="" type="radio"/>	社会
<input type="radio"/>	数学
<input type="radio"/>	理科
<input type="radio"/>	英語

1	解答欄
1	ア イ ウ エ
2	ア イ ウ エ
3 ①	ア イ ウ エ
②	ア イ ウ エ
4	ア イ ウ エ
5	ア イ ウ エ
6	ア イ ウ エ
7	ア イ ウ エ
8	ア イ ウ エ

2	解答欄
1	ア イ ウ エ
2	ア イ ウ エ
3	ア イ ウ エ
4	ア イ ウ エ
5	ア イ ウ エ
6	ア イ ウ エ オ カ キ ク
7	ア イ ウ エ

3	解答欄
1	ア イ ウ エ
2	ア イ ウ エ
3	ア イ ウ エ
4	ア イ ウ エ オ カ
5	ア イ ウ エ
6	ア イ ウ エ オ カ キ ク
7	ア イ ウ エ
8	ア イ ウ エ

# 解答用紙 社会 第2面

## 注意事項

- 1 HBまたはBの鉛筆(シャープペンシルも可)を使って○の中を正確に塗りつぶしなさい。
- 2 訂正は消しゴムできれいに消し、消しくずを残してはいけません。
- 3 所定欄以外にマークしたり、記入したりしてはいけません。
- 4 汚したり、折り曲げたりしてはいけません。

5	良い例	悪い例		
	●	① 線	● 小さい	✖ はみ出し
		○ 丸囲み	▼ レ点	○ うすい

6 問題番号 123 の解答欄は、この用紙の第1面にあります。

4	解答欄
1	ア イ ウ エ
2	ア イ ウ エ
3	ア イ ウ エ オ カ キ ク
4	ア イ ウ エ
5	ア イ ウ エ オ カ
6	ア イ ウ エ
7	ア イ ウ エ
8	ア イ ウ エ オ カ キ ク ケ コ

5	解答欄
1	ア イ ウ エ オ カ キ ク
2	ア イ ウ エ
3	ア イ ウ エ
4	ア イ ウ エ
5	ア イ ウ エ
6	ア イ ウ エ
7	ア イ ウ エ オ カ キ ク

6	解答欄
1	ア イ ウ エ
2	ア イ ウ エ オ カ
3	ア イ ウ エ
4	ア イ ウ エ
5	ア イ ウ エ
6	ア イ ウ エ